

ΕΠΑΝΑΛΗΨΗ ΣΤΑ ΜΑΘΗΜΑΤΙΚΑ
ΚΕΦΑΛΑΙΑ 9-15


1. Συμπληρώνω το διπλάσιο στον παρακάτω πίνακα :

ολόκληρο	11	13	14	23	32	45	50	34	42
διπλάσιο									




2. Συμπληρώνω το μισό στον παρακάτω πίνακα :



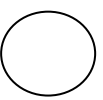
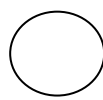

ολόκληρο	24	12	44	68	70	30	50	90	100
μισό									



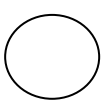
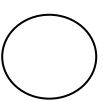

3. Συμπληρώνω τα βέλη για να πετύχω τον αριθμό στόχο :




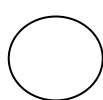

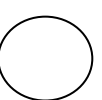
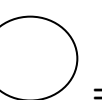








4. Παρατηρώ προσεκτικά και συμπληρώνω :

 +  = 

 +  +  +  = 

 +  +  +  = 

 +  +  +  +  +  +  = 

 +  +  +  = 

5. Κάνω προσεκτικά τις πράξεις. Έπειτα χρωματίζω τα πλαίσια που έχουν τους αριθμούς-αποτελέσματα στην εικόνα.

Κόκκινο

$26 + 5 = \underline{\quad}$

$74 - 30 = \underline{\quad}$

$88 - 62 = \underline{\quad}$

$57 + 4 = \underline{\quad}$

$22 + 31 = \underline{\quad}$

$61 + 20 = \underline{\quad}$

$100 - 8 = \underline{\quad}$

$32 + 40 = \underline{\quad}$

$96 - 61 = \underline{\quad}$

$89 - 32 = \underline{\quad}$

$55 + 7 = \underline{\quad}$

$38 + 3 = \underline{\quad}$

Μαύρο

$92 - 4 = \underline{\quad}$

$88 - 32 = \underline{\quad}$

$57 - 40 = \underline{\quad}$

$32 + 44 = \underline{\quad}$

$13 + 32 = \underline{\quad}$

$75 - 6 = \underline{\quad}$

$46 - 7 = \underline{\quad}$

$86 - 60 = \underline{\quad}$

$56 + 30 = \underline{\quad}$

$72 - 5 = \underline{\quad}$

$38 - 9 = \underline{\quad}$

Κίτρινο

$75 + 8 = \underline{\quad}$

$95 - 70 = \underline{\quad}$

$42 + 31 = \underline{\quad}$

$61 + 30 = \underline{\quad}$

$58 + 6 = \underline{\quad}$

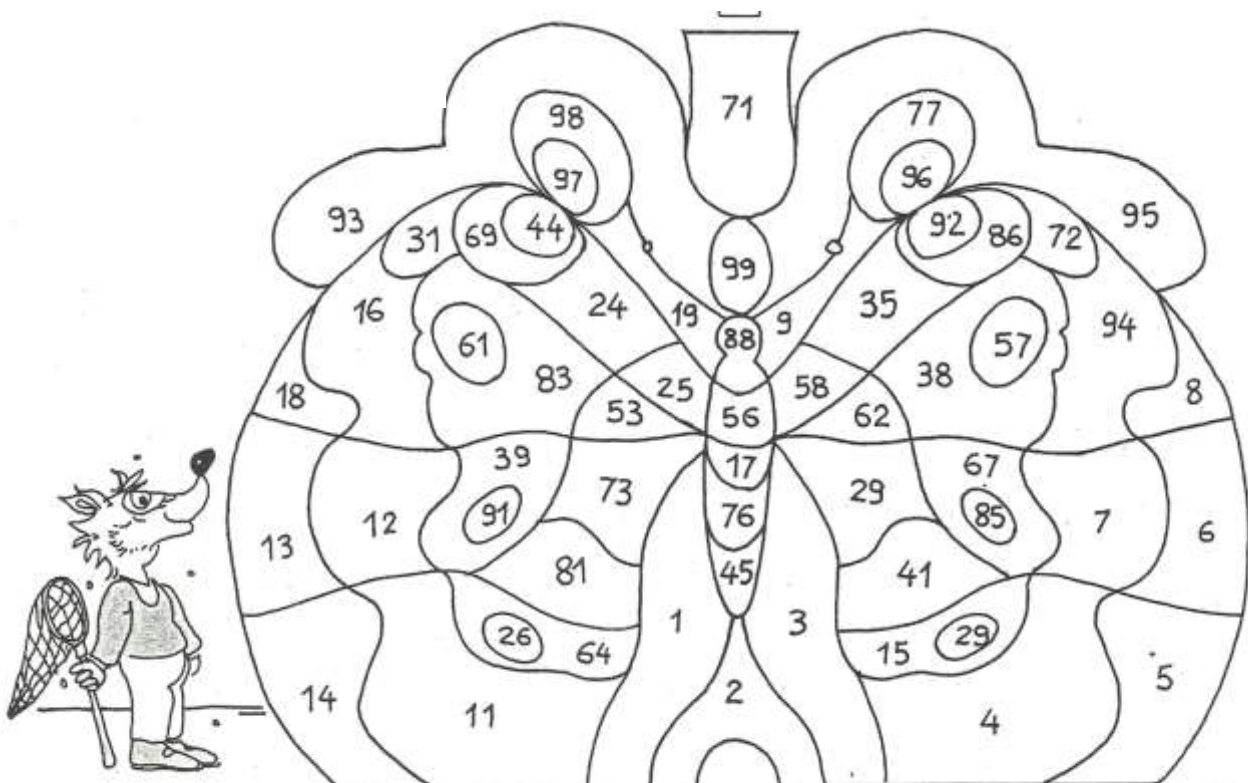
$45 - 7 = \underline{\quad}$

$92 - 40 = \underline{\quad}$


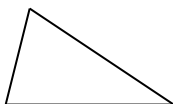
$33 - 4 = \underline{\quad}$

$63 + 22 = \underline{\quad}$

$67 - 52 = \underline{\quad}$



6. Πώς λέγονται τα παρακάτω; Γράφω το όνομά τους :



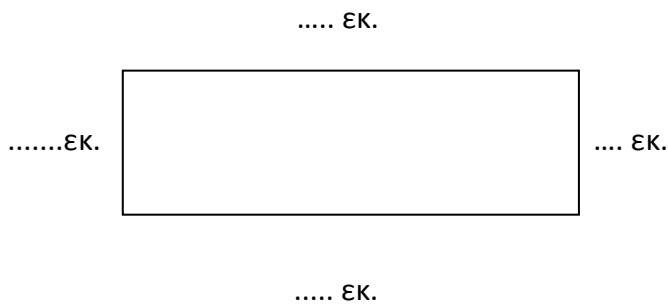
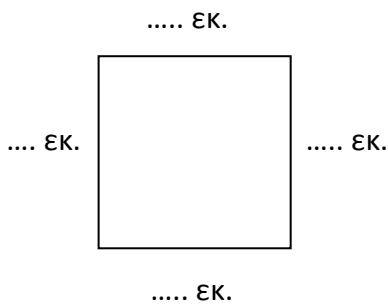
.....

.....

.....

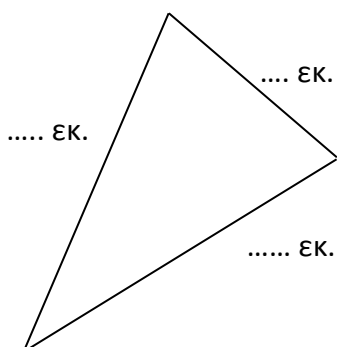
.....

7. Μετρώ με το χάρακα πόσα εκατοστά είναι η κάθε πλευρά και υπολογίζω την περίμετρο των γεωμετρικών σχημάτων :



Περίμετρος : ΕΚ.

Περίμετρος : ΕΚ.



Περίμετρος : ΕΚ.